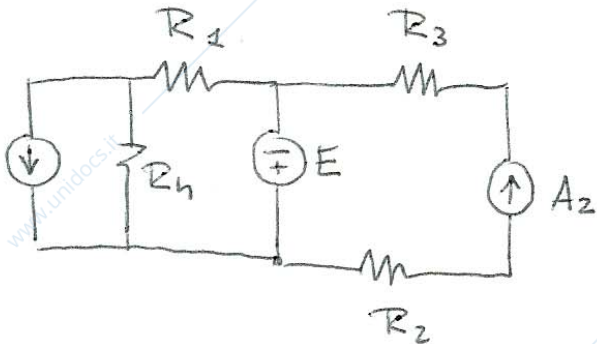
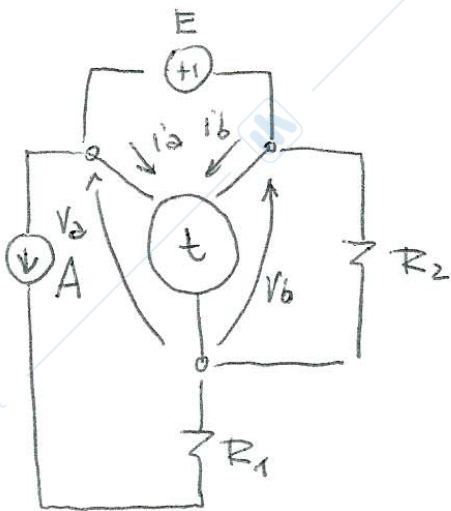


Determinare $f(i, V) = 0$ per le ipotesi componenti e morsetti α e β



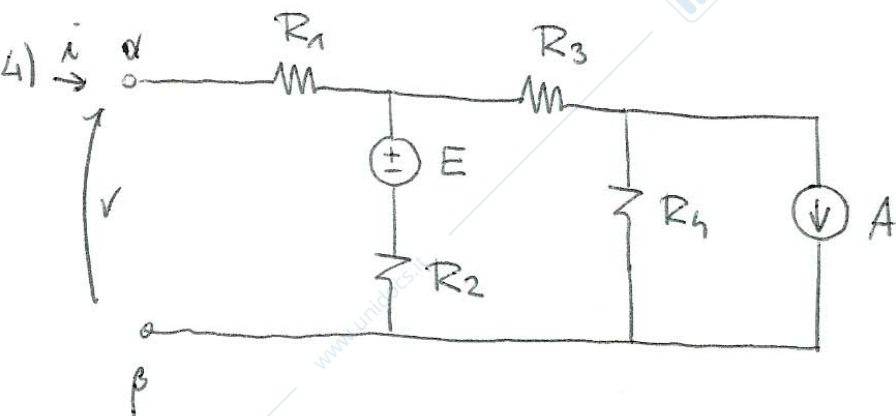
Determinare la potenza elettronica erogata da E.



$$\begin{cases} i_a = gV_a & z \neq 0 & g \neq 0 \\ V_b = z i_a & z g \neq 1 \end{cases}$$

- quali basi di definizione ammette il triodo t?

- Determinare la potenza erogata dal triodo t



- come per 1) determinare $f(i, V) = 0$ per le ipotesi componenti e morsetti α e β